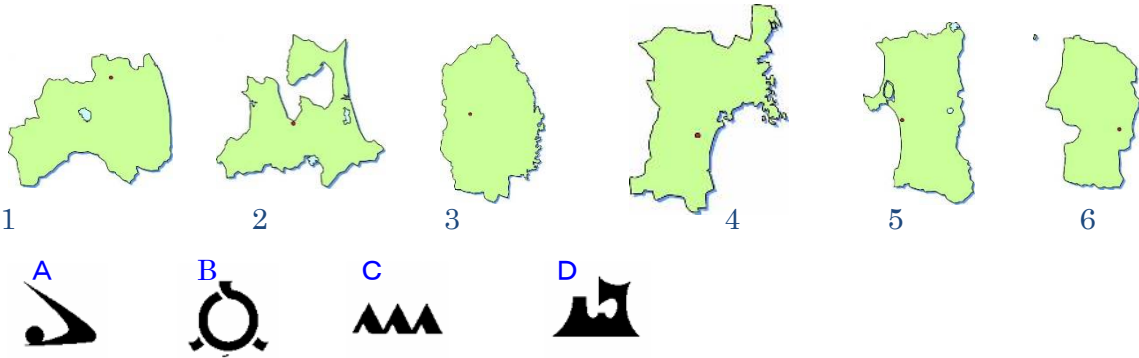



けんしょう
 県章や県庁所在地名、県の位置やおもなことがらを答えなさい。市や県は省いて答えてもかまいません。



おもなことがら	県庁所在地	地図番号	県章
いわきがわ 岩木川がそそぐ(1…?平野と地図での位置)でのりんごの栽培。三大美林の津軽ひば。 東北三大まつり(2…?祭り)。縄文時代の(3…?遺跡)。東北新幹線の終着(4)市。 ホタテの養殖(5…?湾と地図での位置)。津軽富士の(6…?山と地図での位置)。 世界自然遺産の(7…?山地と地図での位置)。八甲田山のふもとの(8…?湖)。(9…?市と地図での位置)の津軽塗。(10…?村と地図での位置)の核燃料再処理施設。	(4)	(11)	(12)
よねしろがわ 米代川がそそぐ(13…?平野)。八郎潟(14…?村と地図での位置)でのあきたこまち。 世界自然遺産の(7)。東北三大祭(15…?祭り)。三大美林の(16)。秋田新幹線の終着駅。日本最深の湖の(17…?湖と地図での位置)。牡鹿半島に似た名の(18…?半島と地図での位置)。(19…?盆地)から秋田平野にそそぐ雄物川。大館市の(20…伝統工芸品)	秋田	(21)	(22)
(23…口紅や食用油)が栽培されている三大急流の(24…?川と地図での位置)がそそぐ(25…?平野と地図での位置)の稲作と港町の(26…?市と地図での位置)。(27…?盆地と地図での位置)のおとうやぶどう。(28…?市と地図での位置)の将棋の駒。山形新幹線の終着(29)市。	山形	(30)	(31)
リアス海岸の(32…?海岸)。伝統的工芸品の(33…鉄瓶)。東北新幹線と秋田新幹線が分かれる(34…?市と地図での位置)。畜産と酪農。日本初の地熱発電所の(35…地名)と葛根田。 日本の背骨といわれる(36…?山脈と地図での位置)の東を流れる(37…?川と地図での位置)。 南部富士の(38…?山と地図での位置)。奥州藤原氏の浄土教建築で知られる世界遺産の(39…地名と地図での位置)。釜石市の明治日本の産業革命遺産。	(34)	(40)	
(41…?の都)とよばれる政令指定都市で百万都市の(42…?市と地図での位置)。仙台平野の稲作。(43…水産物)の養殖の(44…?半島と地図での位置)。伝統こけしの(45…?町と地図での位置)。(46…?市と地図での位置)。北上川河口の漁港の(46…?市と地図での位置)。東北三大祭(47…?祭り)。日本三景の(48…地名と地図での位置)。	(42)	(49)	
全国2位の(50…くだもの名)の生産の(51…?盆地と地図での位置)。原子力発電所。安積疎水や発電に利用されている(52…?湖と地図での位置)。山形新幹線と東北新幹線が分かれる(53…?市と地図での位置)。郡山盆地と福島盆地を通り、(54…?高地)の西を流れる(55…?川と地図での位置)。会津若松市の(56…?塗)。この県の(57…ひらがな)市と(58…漢字)市は県庁所在地よりも人口が多い都市です。	(53)	(59)	(60)

おもなことから	県庁所在地	地図番号	道章
<p>稲作の(1…?平野と地図での位置)や(2…?盆地と地図での位置)。日本の穀倉地帯の(3…?平野と地図での位置)での畑作。(4…?台地と地図での位置)での酪農。小麦・大豆・ジャガイモ・ダイコン・ニンジン・乳牛・肉牛。北海道の政治経済の中心で、雪祭り・ビール・乳製品の(5…?市と地図での位置)。掘り込み港の(6…?市と地図での位置)の製紙パルプ・石油精製。タンチョウ鶴で知られ、ラムサール条約に登録された(7…?湿原と地図での位置)。</p> <p>有数の漁港と製紙パルプの(8…?市と地図での位置)。(9…?市と地図での位置)の鉄鋼。</p> <p>世界自然遺産の(10…?半島と地図での位置)。水産加工と五稜郭のある(11…?市と地図での位置)。本州と結ぶ(12…?トンネルと地図での位置)をつなげた(13…?半島と地図での位置)。</p> <p>北海道の空の玄関の新千歳空港がある(14…?市と地図での位置)。動物の生態が観察できる動物園と製紙パルプの(15…?市と地図での位置)。蝦夷富士の(16…?山)。日本最北端の都市の(17…?市)。ホタテの養殖の(18…?湖と地図での位置)。毬藻で知られる湖のある(19…?国立公園と地図での位置)。専門のガイドによる説明を受けながら大自然を体験できる(20…?ツアー)。製糖の(21…?市と地図での位置)。北方領土の(22…?島と地図の19)・(23…?島と地図の18)・(24…?島と地図の20)・(25…?島と地図の21)。新青森駅～(26…?駅)をつなぐ北海道新幹線。「北海道・北東北の縄文遺跡群」の世界文化遺産</p>	(5)	---	

下の北海道の気候区を①日本海側(札幌) ②内陸部(旭川) ③東部(根室) にそれぞれ分けなさい。



(27…①か②か③で)



(28…①か②か③で)



(29…①か②か③で)

下の道府県名を答えなさい。

県	人口(人) 2023 (前年差人)	面積 (km ²) 2023	政令指定都市	米(トン) 2021	農業産出額 (百万円) 2021	野菜 (億円) 2020	畜産 (億円) 2018	漁獲量 (トン) 2021	製造品出荷額 (百万円) 2021
(30)	2,263,552 -16,002	7,282	1	353,400	175,500	275	758	184,415	5,003,379
(31)	1,766,358 -22,862	13,784	0	335,800	191,300	480	455	62,664	5,162,740
(32)	1,184,531 -19,841	9,645	0	256,900	327,700	821	905	69,754	1,694,693
(33)	1,163,024 -17,488	15,275	0	268,600	265,100	292	1,569	79,832	2,713,266
(34)	913,556 -16,381	11,638	0	501,200	165,800	301	359	5,937	1,405,723
(35)	1,026,228 -14,743	9,323	0	393,800	233,700	465	361	3,719	3,023,933
(36)	5,091,680 -47,842	78,419	1	573,700	1,310,800	2,145	7,350	915,657	6,129,256

下の果物名を答えなさい。

(37) 2021年				
やまなし 山梨 24.6%	長野 17.4%			その他
岡山 9.2% [┐] ^{やまがた} 山形 8.8% [┐]				

(38) 2021年		
やまがた 山形 69.9%		その他
北海道 11.5% [┐] ^{山梨} 7.2% [┐]		

(39) 2021年				
やまなし 山梨 32.3%	ふくしま 福島 22.7%			その他
長野 9.9% [┐] ^{山形} 8.3% [┐]				

(40) 2021年				
あおもり 青森 62.8%	ながの 長野 16.7%			その他
岩手 6.4% [┐] ^{山形} 4.9% [┐]				

(41) 2021年					
ちば 千葉 11.1%	茨城 10.3%	とちぎ 栃木 8.6%	長野 6.5%	ふくしま 福島 6.4%	その他

くだもの果物の生産の順位は(42…ア～ウ)です。

くだもの果物 2021年					
1位 11.9%	2位 9.5%	3位 8.63%	4位 8.61%	5位 7.6%	その他

	1位	2位	3位	4位	5位
ア	あおもり 青森	ながの 長野	わかやま 和歌山	やまなし 山梨	やまがた 山形
イ	あおもり 青森	わかやま 和歌山	ながの 長野	やまがた 山形	やまなし 山梨
ウ	ながの 長野	あおもり 青森	わかやま 和歌山	やまがた 山形	やまなし 山梨

下の畜産物名を答えなさい。

(43) 2021年				
岩手 4,100				
北海道 830,300				その他
とちぎ 栃木 53,100 [┐] ^{熊本} 43,800 [┐]				

(44) 2021年				
宮崎 28012	鹿児島 27085	岩手 22600	青森 7087	その他

(45) 2021年				
ほっかいどう 北海道 535,800	かごしま 鹿児島 351,100	みやざき 宮崎 250,000		その他
熊本134,700 <small>↓</small>				

(46) 2021年						
千葉6.6% <small>↑</small> 茨城5.5%						
かごしま 鹿児島 13.3%	みやざき 宮崎 8.6%					その他
北海道7.8% <small>↓</small> 群馬6.9%						

下の農作物名を答えなさい。

(47) 2021年			
北海道 60.75	さが 佐賀 9.2%		その他
ひょうご 兵庫9.14% <small>↓</small>			

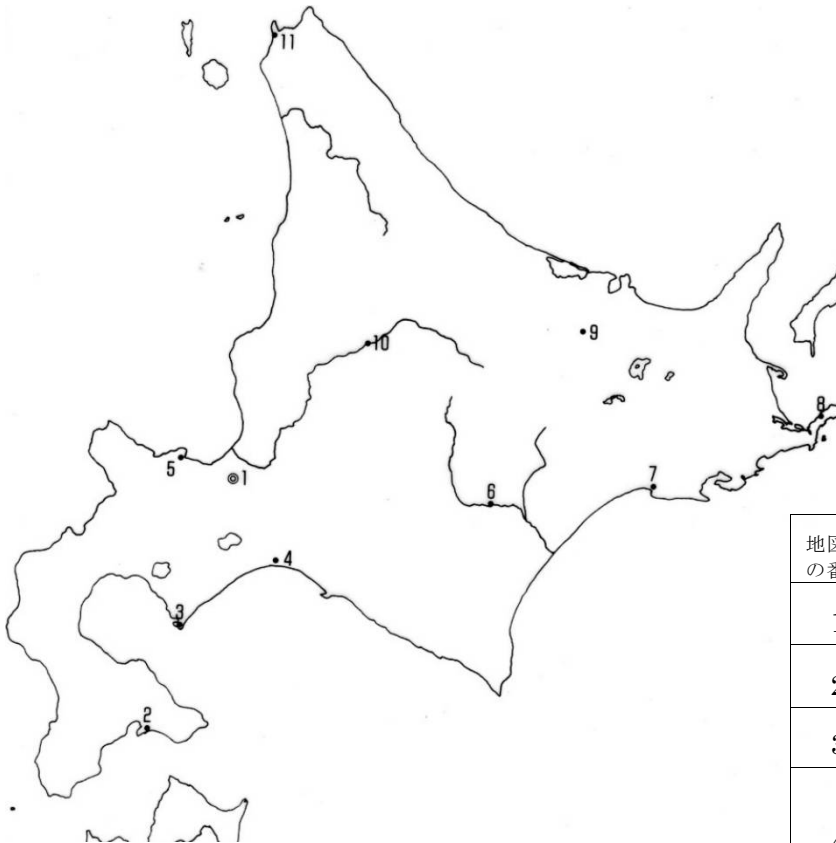
(48) 2021			
北海道 66.4%			その他
ふくおか 福岡7.1% <small>↓</small> 佐賀5.2%			

(49) 2021年			
長崎 3.76% <small>↑</small>			
北海道 77.52%			その他
鹿児島4.18% <small>↓</small>			

(50) 2021年				
秋田 5.6%				
北海道 42.8%				その他
宮城 9.0% <small>↓</small> 滋賀 3.5%				

都市の確認

地図に示された番号の都市名を答えなさい。



地図での番号	おもな都市
1	雪祭り・ビール・乳製品の(51)市。
2	水産加工と五稜郭の(52)市。
3	鉄鋼の(53)市。
4	製紙・パルプ・石油精製・掘り込み港の(54)市。
6	日本の穀倉地帯にある製糖の(55)市。
7	北海道一の漁港で製紙・パルプの(56)市。
11	最北端の都市の(57)市。