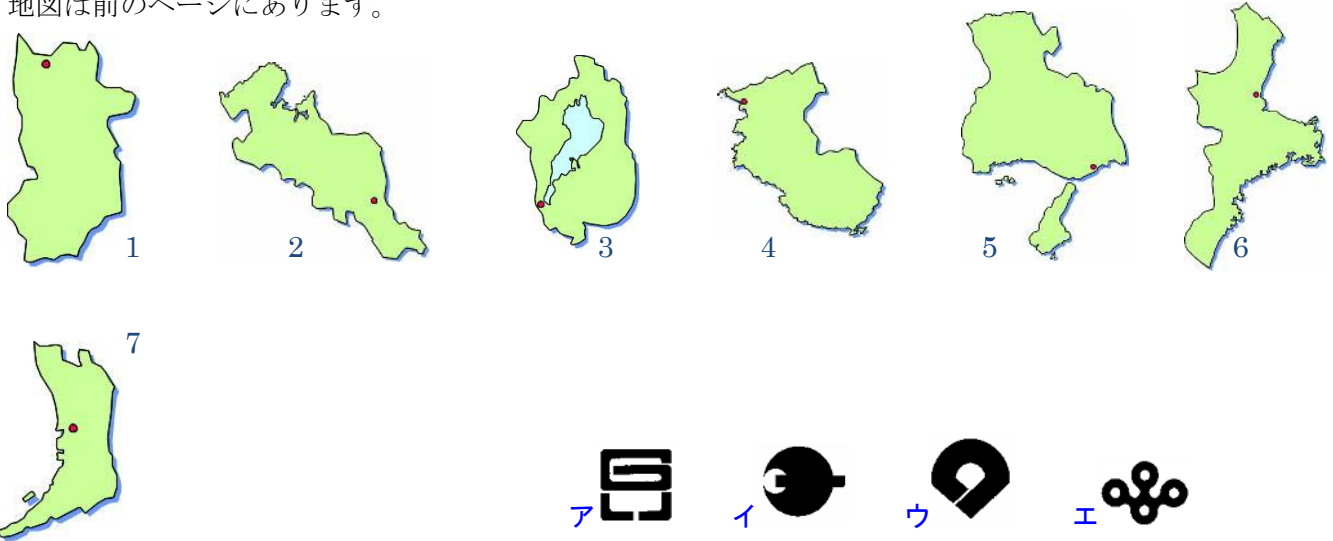


それぞれのことがらについて答えなさい。都市名の市や町ははぶいて答えても良い。  
地図は前のページにあります。



おもなことがら	府県庁所在地	府県の形	府県章
<p>(1…?市と地図での位置)の石油化学。(2…?市と地図での位置)の電気機器。多い中小工場。 (3…?の?)とよばれた大阪。琵琶湖を水源に大阪湾にそそぐ(4…川名)。泉佐野市の海上にある(5…?空港と地図での位置)。東海道新幹線の終着の新大阪駅。日本で(6)番目に面積が小さい都道府県。百舌鳥・古市古墳群の世界遺産。</p>	おおさか 大阪	(7)	(8)
<p>1100年の間、日本の都がおかれた京都。高級茶で知られる(9…?市と地図での位置)。西陣織・(10…?焼)・丹後半島の(11…絹織物)の伝統工業。日本三景の(12…地名と地図での位置)。世界遺産の古都京都の文化財。</p>	きょうと 京都	(13)	
<p>(14…?島と地図での位置)の近郊農業のタマネギ。この島と神戸市を(15…?橋と地図での位置)で結ぶ神戸-鳴門ルート。(16…水産物)の養殖は日本有数。西日本一の貿易港の神戸港。ポートアイランドと六甲アイランド。世界遺産の(17…?城と地図での位置)。</p>	神戸	(18)	(19)
<p>伝統工芸品の(20…?焼)。京阪神の水がめで県の面積の約(21…?分の?)をしめる琵琶湖。南部は大阪・京都のベッドタウン。この県を流れる(22…?川。淀川の別名)。</p>	(23)	(24)	
<p>志摩半島での(25)の養殖。(26…?市と地図での位置)の石油化学はかつての公害。降水量の多い(27…?市と地図での位置)。最高位の神社の(28…?神宮)。ブランド牛の(29…?牛)。</p>	(30)	(31)	
<p>(32…?川と地図での位置)上流の吉野すぎ。 (33…?市)での金魚の養殖。筆・墨などの伝統工業。古都奈良の文化財・日本最古の木造建築物の(34…寺名と地図での位置)などの世界遺産。(35…?寺)の大仏。柿。</p>	なら 奈良	(36)	(37)
<p>紀ノ川・有田川流域での(38…くだもの)栽培。紀州梅と柿。木の国とよばれる紀伊国。(39…?市と地図での位置)の鉄鋼。県のほとんどをしめる(40…?山地)。世界遺産の(40)の霊場と参詣道。梅と柿の生産が日本一。</p>	和歌山	(41)	(42)

この地方には(43…?市をあるだけ全部)の政令指定都市があります。

下の表の府県名を答えなさい。

県	人口(人) 2023 (前年差人)	面積 (km <sup>2</sup> ) 2023	政令指定都市	米 (トン) 2021	農業産出額(百万円) 2021	野菜 (億円) 2020	畜産 (億円) 2018	漁獲量 (トン) 2021	工業出荷額 (億円)2020
(44)	2,536,995 -13,409	4,612	1	71,600	66,300	250	144	8,513	56,587
(45)	1,727,503 -15,200	5,774	0	130,200	106,700	145	434	107,431	107,173
(46)	891,620 -11,552	4,725	0	30,300	113,500	141	51	16,766	26,476
(47)	1,295,681 -10,300	3,691	0	43,200	39,100	113	62	0	21,224
(48)	8,774,574 -12,840	1,905	2	22,600	29,600	141	220	17,980	169,384
(49)	5,369,834 -33,989	8,401	1	175,800	150,100	349	604	48,238	162,633
(50)	1,406,103 -3,285	4,017	0	156,200	58,500	105	112	788	80,484

日本の湖を大きさの順に表しているものは(51…ア～ウで)です。

	1位	2位	3位	4位	5位
ア	琵琶湖	猪苗代湖	霞ヶ浦	サロマ湖	中海
イ	琵琶湖	霞ヶ浦	サロマ湖	猪苗代湖	中海
ウ	琵琶湖	サロマ湖	猪苗代湖	霞ヶ浦	中海

日本で水深が一番深い湖(423m)は(52…?湖とこれがある都道府県名)で、湖面の標高(海面からの高さ)が一番高い(1269m)のは(53…?湖とこれがある都市名)です。

たまねぎの順位を表しているものは(54…ア～ウで)です。

たまねぎ 2021年				1位	2位	3位
1位	60.75%	2位	9.2%	北海道	長崎	佐賀
			3位	9.14%	北海道	佐賀
			その他	北海道	兵庫	佐賀

茶の順位を表しているのは(55…ア～ウで)です。

茶 2023年				1位	2位	3位
1位	36.2%	2位	34.7%	静岡	鹿児島	宮崎
			3位	6.9%	静岡	三重
			その他	鹿児島	静岡	宮崎
						4位
						3.5%

みかんの順位を表しているものは(56…ア～ウ)です。

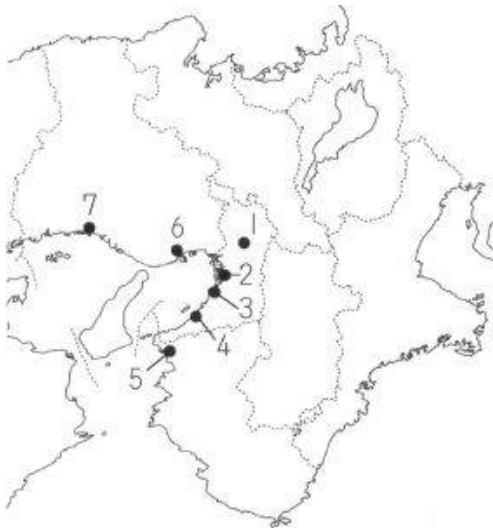
みかん 2021年				
1位 19.7%	2位 17.1%	3位 13.3%	4位 12.0%	その他

	1位	2位	3位	4位
ア	わかやま 和歌山	えひめ 愛媛	しずおか 静岡	くまもと 熊本
イ	わかやま 和歌山	しずおか 静岡	えひめ 愛媛	くまもと 熊本
ウ	えひめ 愛媛	しずおか 静岡	わかやま 和歌山	くまもと 熊本

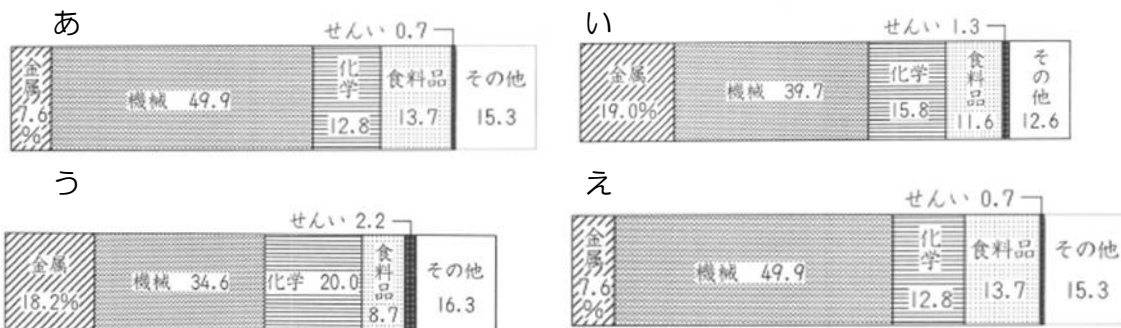
### 工業都市の確認

地図に示された番号の都市名を答えなさい。



地図での番号	おもな工業都市
1	電気機器の(57)市。
2	石油化学の(58)市。
3	せんいの(59)市。
4	せんいの(60)市。
5	てっこう鉄鋼の(61)市。
6	ぞうせん造船の(62)市。
7	てっこう鉄鋼の(63)市。

阪神工業地帯を表しているグラフは(64)です。



新幹線と並行して、愛知県の小牧市から兵庫県の西宮市を結んだ日本で初めてつくられた(65…? 高速道路)や、大阪から山口県の下関市を結ぶ(66…? 自動車道)が通っています。

さらに、神戸と淡路島の間は(67…橋名)で、淡路島と徳島県の鳴門との間は(68…橋名)という連絡橋で結ばれています。ともに自動車専用の橋で、世界で2番目に長いつり橋が(69…67か68)です。

綿工業で知られる大阪府の(70…? 市)の沖合に、大阪湾を埋め立てて造られた海上空港の(71…? 空港)があります。離着陸が24時間可能な空港です。騒音の問題を解消するために建設されました。