

中国地方の日本海側は(1…地域名)、瀬戸内海側は(2…地域名)、四国地方の瀬戸内海側は北四国、太平洋側は南四国
 といい、(2…地域名)と北四国を合わせて(3…地域名)とよびます。

①山陰

中国地方の(4…?山地。地図の⑧)はなだらかな山が続きます。日本海に面した海岸線は単調(変化が少ないこと)です。鳥取県の(5…?平野。地図の①)には大きな砂丘があり、西部にはカルスト地形で知られる(6…地域名。地図の⑨)があります。セメントの原料の石灰石が多くあります。



伯耆富士とは鳥取県の(7…山名。地図の⑦)のことで、北海道の羊蹄山は蝦夷富士、青森県の岩木山は津軽富士、岩手県の岩手山は南部富士、鹿児島県の開聞岳は薩摩富士、八丈島の西山は八丈富士とよばれています。

津軽富士(岩木山)

南部富士(岩手山)

八丈富士(西山)

薩摩富士(開聞岳)



②瀬戸内

瀬戸内海には香川県の(8…?島。地図の⑩)や(9…?県)の淡路島などの多くの島があり、海岸線は出入りが複雑です。広島平野・岡山平野・うどんで知られる香川県の(10…?平野。地図の⑬)などが瀬戸内海に面して広がっています。

③四国山地と南四国

高くてけわしい四国山地から流れ出た吉野川の下流に(11…?平野。地図の⑳)があり、四国の最西端の(12…岬名)から九州と四国をへだてている(13…?海。地図の㉑)沿岸にかけてリアス海岸が続いています。

四国の最南端の(14…岬名)の東に(15…?川。地図の㉒)が流れています。この川にはダムがなく、河岸もコンクリートで固められていないことから最後の清流といわれてきました。

気候

①太平洋側(高知)

年間の降水量が多く温暖な気候です。6月の梅雨、9月の台風の影響で、夏の降水量が多くなります。



②瀬戸内(高松)

中国山地が冬の季節風を、四国山地が夏の季節風をさへぎるため、降水量は少なくなります。そのため、この地方は稲の栽培に向かず、人々は少ない雨でも育つ小麦でつくったうどんを食べていました。名物の讃岐うどんはこうした気象条件で生まれたのです。



③日本海側(鳥取)



降水量は冬の方が多いたことが分かります。冬の北西の季節風の影響で雨や雪が多くなるためです。しかし、暖流の(16…漢字で?海流)が沖を流れているため、気温はさほど下がりません。

中国・四国地方の農林水産業

①山陰

鳥取平野の丘陵地では、日本なしの栽培がさかんでした。

日本なし		2020年			
千葉	長野	茨城	福島	栃木	その他
10.67%	8.04%	7.92%	7.57%	6.63%	

また、鳥取平野では長い間砂の害になやまされてきましたが、今では(17…?林)で砂の害をおさえ、(18…カタカナ。写真)を使って水をまき、砂地に向けた作物の(19…右写真のねぎのなかま)・すいか・長いもなどをつくっています。そして、中国山地では肉牛の飼育を行っていましたが、牛肉の自由化の影響で畜産農家は大きく減っています。しかし、鳥取砂丘では変化が起きています。月面を走る車両のタイヤを開発している「ブリヂストン」の会社や、ドローン操縦士の育成などを目的とする地元の企業がこの砂丘に進出してきているのです。



②瀬戸内

讃岐平野では(20…?池)をつくって農業用水を確保してきました。その中の満濃池は、平安時代に(21…僧名)の指導でつくられたといわれています。現在は、徳島県から(22…?山脈。地図の⑱)を通して水を引いた(23…?用水)の完成で、こうした池は少なくなっています。

瀬戸内海に面した段々畑ではみかんが栽培されていますが、消費量が減り、外国産のオレンジとの競争がきびしくなったため、ビニールハウスを用いて出荷時期を早めたり、キウイフルーツの栽培にきりかえたりしています。みかんの生産の順位を表しているのは(24…ア～ウで)です。

みかん		2020年	
1位 21.8%	2位 15.6%	3位 14.7%	その他
4位 10.8%			

1位	2位	3位	4位
ア 和歌山	えひめ 愛媛	熊本	静岡
イ 和歌山	静岡	えひめ 愛媛	熊本
ウ 愛媛	和歌山	熊本	静岡

③南四国

高知平野ではビニールハウスを利用した促成栽培がさかんです。グラフの県名を答えなさい。

ピーマン		2021年	
(25) 22.5%	宮崎 18.1%	鹿児島 9.0%	高知 8.8%
その他			

なす		2021年	
(26) 13.2%	(27) 11.2%	群馬 9.2%	その他

水産業

①山陰

日本海はあじ・さばなどのよい漁場です。(28…?県)の境港市にある境港は、日本海沿岸で水揚げ量が多い漁港です。また、海水と淡水が混じった島根県の(29…湖名。地図の⑤)はシジミで知られています。

②瀬戸内

広島湾では(30…水産物名)が、宇和海沿岸では(31…水産物名)が養殖されています。しかし、瀬戸内海は、海水温の上昇による(32…右写真)の被害になやまされています。



③南四国

四国の沖合は黒潮が流れ、一本釣りでとる(33…魚名)やまぐろなどのよい漁場です。

中国・四国地方の工業

この地域には第二次世界大戦後の軍用地や(34…漢字で)の跡地、埋め立て地に大規模な石油化学コンビナートや製鉄所などをつくらせた瀬戸内工業地域が広がっていますが、大消費地から遠いためにあまり発展していません。化学工業の割合がやや多いという特長があります。瀬戸内工業地域を表すグラフは(35)です。



①石油化学

岡山県の水島地区にある(36…?市。地図の④)、山口県の(37…?市。地図の③)に石油化学コンビナートがあります。



②自動車

広島市や広島市の中にある(38…?町)に大規模な自動車工場があります。プロ野球の広島カープの本拠地です。

③鉄鋼

岡山県の水島地区や、広島県の(39)市・造船でも知られる(40…?市。地図の⑤)で鉄鋼業が発達しています。



④造船

広島県の(40)市や香川県の(41…?市。地図の③)で大型船が作られています。

⑤セメント

山口県の(42…?市。地図の①)や(43…?市。地図の②)でセメント工業が発達しています。秋吉台付近で産出される石灰石を原料にして発達した工業です。

伝統的工芸品

①和紙

高知県では(44…?和紙)が、鳥取県では因州和紙がつくられています。

原料の(45…木の名を2つ)はアジアの国から輸入されているものもあります。

右の熊野筆は(46)県の伝統的工芸品です。



②陶磁器

山口県の萩で(47…?焼)が、岡山県(備前)では(48…?焼。右写真)がつくられています。

③タオル

愛媛県の(49…?市。地図の㊸)の高級タオルが有名です。この市は瀬戸内しまなみ海道によって、広島県の(50…?市)とつながっています。



交通

①尾道—今治ルート

(51…?道)が、広島県の尾道市と愛媛県の今治市を結んでいます。三つのルートのなかでは最も新しく、1999年に開通しました。瀬戸内海の島々を七つの大きな島で結んでいます。

鉄道は通っていませんが、自動車のほかに歩いたり自転車を使ったりして渡ることができます。しかし、その長さは77kmもあるため、休まずに歩いても朝早くから夜おそくまでかかる道のりです。



本州四国連絡橋

3つのルートは、すべて自動車でもわたることができます。

②児島—坂出ルート

瀬戸大橋によって、干拓で知られる(52)県の(53…地名)と、造船で知られる(54…?県)の坂出市を結んでいます。

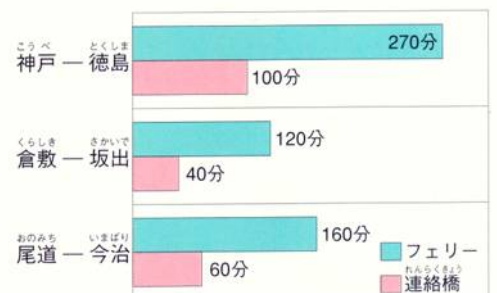
この橋は鉄道と自動車の両方で渡ることができます。

③神戸—鳴門ルート

淡路島によってつながれた連絡橋です。神戸市と淡路島を結ぶ(55…?橋)

と、淡路島と鳴門市を結ぶ(56…?橋)によって、神戸市と鳴門市が結ばれています。

この二つの橋はともに自動車専用の橋です。これらのルートの完成で、北海道・本州・四国・九州が結ばれたのです。しかし、橋の開通によってフェリーが廃止されたことから、交通の便が悪くなった地域もあります。また、瀬戸内海では病院のない島が多いため、船内で診察が受けられる診療船が運航され、多くの住民に利用されています。



かそ
過疎

	1位	2位	3位
ア	高知	島根	鳥取
イ	島根	鳥取	高知
ウ	鳥取	島根	高知

人口が少ない県は(57…記号で選ぶ)の順です。この地方はすべてが過疎の県で、今やこうした地域が日本の面積のおよそ半分以上にもなっています。学校や病院が閉鎖に追い込まれ、森林の手入れもできずに洪水の危険が増すなど、人々の生活そのものをおびやかす問題がおこってきます。

また、前年度よりも人口が増えている都道府県は(58…すべて答える)の2つだけです。

こうしたなか、四国山地の険しい山々に囲まれ、美しい棚田が広がる徳島県上勝町は、料理のいろどりに添えられる



葉っぱなどの「(59…上写真のこれですのこのこと。ひらがなで)」の産地として知られています。この町を全国的に有名にしたのは、その名も「葉っぱビジネス」という仕組みです。そして、葉っぱビジネスの主役は、パソコンもスマホも器用に使いこなす、地元のおばあちゃんたちです。(60…情報通信技術のことをアルファベットで)を使って300種類をこえる(59)を販売しています。そして、こうした地元の農水産物を原材料にして加工し、地域ブランドとして販売する動きを(61…?産業化)といいます。

世界平和を求めて



1945年8月6日、広島市に原子爆弾が落とされました。1945年末までに約14万人の人が亡くなり、これまでに合計20万人以上の方が犠牲になっています。

こうしたことから、広島市は(62…?都市)となることを宣言し、世界に平和の尊さを訴え続けています。

また、広島県には2つの世界遺産があります。左上の(63…名前と地図の位置)と、日本三景の宮島にある(64…?神社と地図の位置)です。

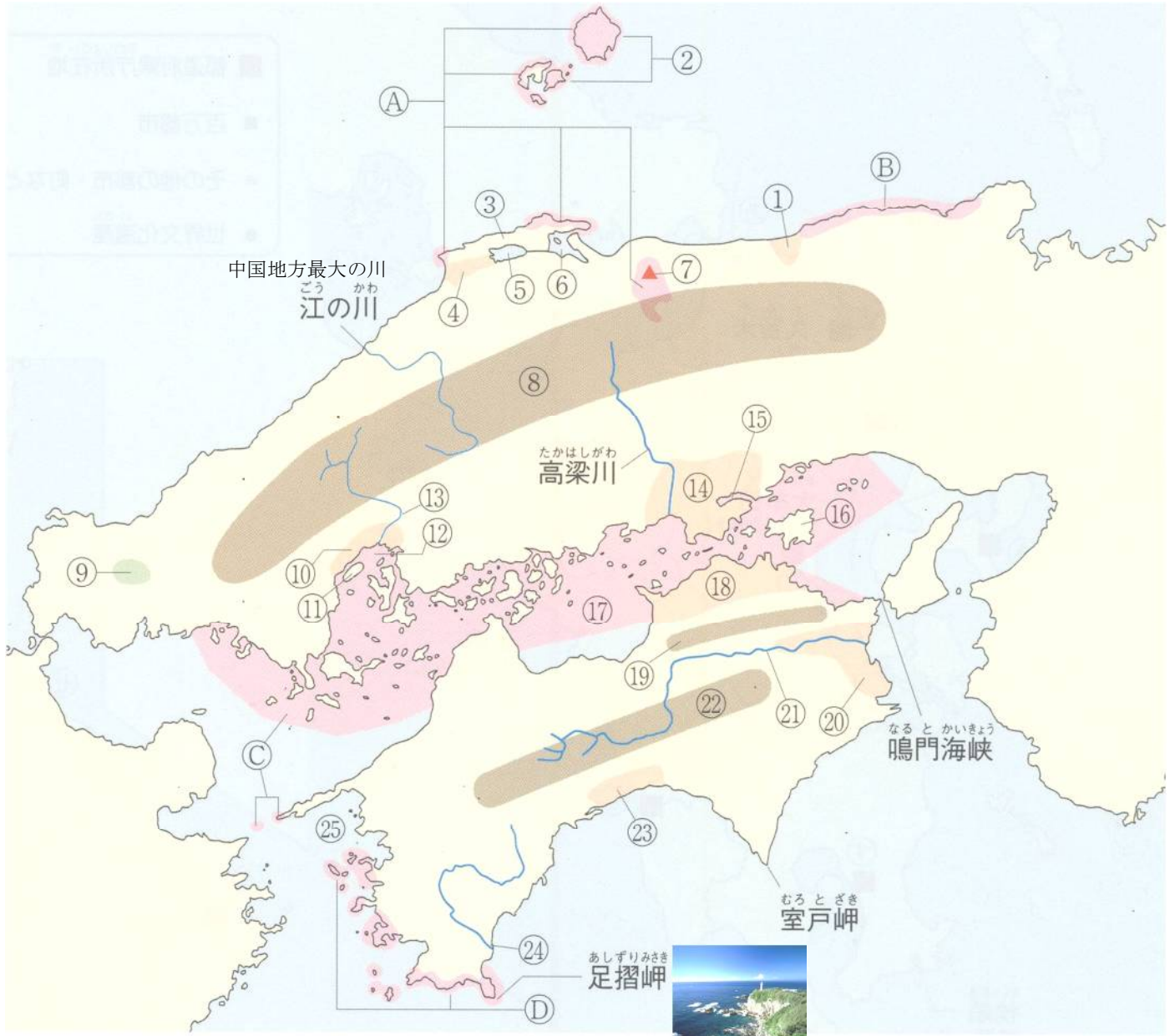


日本三景のほかの2つは京都府の(65…地名)と宮城県の(66…地名)です。

さらに、江戸時代に銀を産出した島根県の(67…鉱山名と地図の◎)遺跡も世界遺産です。環境を破壊せずに狭い坑道を掘り進んだ生産方式が評価された、日本初の産業遺跡です。



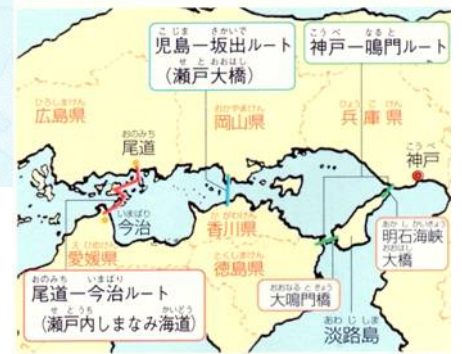
また、山口・福岡・佐賀・長崎・熊本・鹿児島・岩手・静岡の8県に点在する施設が、明治日本の産業革命遺産として登録され、山口県(68…?市。地図の◎)には萩反射炉や松下村塾などが登録されています。



- ①鳥取平野…日本なし、鳥取砂丘(らっきょう・長いも)、スプリンクラー
- ②隠岐諸島 ③島根半島 ④出雲平野…出雲大社 ⑤宍道湖…しじみ ⑥中海…海水と淡水の混じった湖
- ⑦大山…伯耆富士 ⑧中国山地…低くてなだらか ⑨秋吉台…カルスト地形、石灰石
- ⑩広島平野…三角州 ⑪宮島…日本三景 ⑫広島湾…かきの養殖 ⑬太田川
- ⑭岡山平野…マスカット・もも
- ⑮児島湾…干拓 ⑯小豆島…オリーブ
- ⑰瀬戸内海…はまち・くるまえびの養殖と栽培漁業
- ⑱讃岐平野…ため池・香川用水 ⑲讃岐山脈 ⑳徳島平野
- ㉑吉野川…四国三郎・香川用水・干潟の保護運動 ㉒四国山地…高くてけわしい
- ㉓高知平野…ピーマン・ナスの促成栽培 ㉔四方十川…最後の清流 ㉕宇和海…リアス海岸・真珠の養殖

国立公園

- ㉖大山隠岐国立公園 ㉗山陰海岸国立公園 ㉘瀬戸内海国立公園 ㉙足摺宇和海国立公園



- しまね県 ㊶松江市
- 鳥取県 ㊶境港市…日本海側有数の漁港 ㊶鳥取市
- 岡山県 ㊶岡山市…後楽園(日本三名園)・政令指定都市 ㊶瀬戸大橋…児島 - 坂出ルート
- 広島県 ㊶倉敷市…水島地区の石油化学コンビナートと鉄鋼
- 広島県 ㊶瀬戸内しまなみ海道…尾道 - ㊶今治ルート
- 広島県 ㊶呉市…造船・鉄鋼 ㊶広島市…政令指定都市・百万都市・自動車
- 山口県 ㊶山口市 ㊶周南市…石油化学コンビナート ㊶宇部市…セメント ㊶山陽小野田市…セメント
- 山口県 ㊶下関市…関門トンネル ㊶萩市…萩焼
- 愛媛県 ㊶松山市…道後温泉・「坊ちゃん」 ㊶今治市…タオル・瀬戸内しまなみ海道
- 香川県 ㊶瀬戸大橋…児島 - 坂出ルート ㊶坂出市…造船 ㊶高松市
- 徳島県 ㊶徳島市…阿波おどり
- 高知県 ㊶高知市



- 世界遺産 ㊶原爆ドーム ㊶厳島神社 ㊶石見銀山
- ㊶明治日本の産業革命遺産…松下村塾(山口県萩)

- 百万都市 (1つ)…広島市 政令指定都市 (2つ)…広島市・岡山市

