

外交

井伊直弼が結んだ日米修好通商条約は、「領事裁判権を認め、関税をかける権利が無い」などの不利な内容のものでした。当時の日本が近代国家として諸外国に認められていなかったためです。そこで、日本の近代化を示して不平等条約を撤回しようと考えた政府は、(1…迎賓館名)を建設し、外国人を招いて毎日のように舞踏会を開いています。



右は鹿鳴館での舞踏会のような様子をフランスの画家ビゴーが風刺したものです。この絵から、諸外国が日本のことをどのように見ていたかが分かります。そのことを「欧米は・・・」のかたちで答えなさい。…(記述1)

使節団、藩を県とは1871ぞ

廃藩置県が行われた1871年、明治政府は不平等条約を改めてもらうための使節団を欧米に派遣します。

①が長州(山口県)の(2…人物名。維新の三傑の一人)、②は使節団のリーダーの公家の(3…人物名)、③が長州の(4…人物名。初代の内閣総理大臣)、④が薩摩の(5…人物名。維新の三傑の一人)です。

岩倉具視 おおくぼとしみち いとうひろぶみ きとたかよし



このとき、西郷隆盛は日本に残って新政府を守っていました。

しかし、欧米諸国は、憲法も無い日本は近代国家として認められないとして、日本の条約改正の要求に応じてくれません。

また、このときの岩倉使節団に随行して渡米した6歳の少女が津田梅子です。

同年、清と対等の関係に立った(6…漢字で?条規)が結ばれ、中国と初めての国交が開かれました。

さらに、日本は朝鮮にも国交を求めましたが、明治政府を認めていない朝鮮はそれに応じません。

当時の朝鮮は、江戸幕府が正式な国交を結んでいたただ一つの国で、朝鮮通信使に見られるように江戸幕府は信用していましたが、明治政府のことは認めていなかったようです。西郷どん、1877残りかわいいそう

これに対して西郷隆盛は、職を無くした士族たちを使って朝鮮を征服しようとする(7…漢字で…?論)を主張しますが、国内の立て直しが先だとして受け入れられず、そのことで西郷は政府を辞め、後に西南戦争で自害しています。

そして、1875年、朝鮮の首府漢城の近くで、日本の軍艦雲揚号が江華島にある砲台と交戦する江華島事件がおき、この事件をきっかけにして日本が朝鮮に開国をせまり、翌1876年に日本が有利になる不平等条約の(8…?条規)を結ばせています。

また、江華島事件がおきた1875年には、(幕臣だった)榎本武揚が、ロシアと樺太・千島交換条約を結んでいます。樺太をロシア領とする代わりに、千島列島から南は日本領にするとした取り決めで、現在の北方領土問題で日本が主張する内容です。

さらに、日本は小笠原諸島の領有権を宣言したためにイギリス・アメリカと対立し、琉球帰属問題では清と対立しています。



18な86だノルマントン



1886年、紀州(和歌山県)の沖でイギリスの貨物船(9…船の名)が沈没する事件がおきます。船長と乗組員の

イギリス人たちは、ボートで脱出して助かりますが、残された日本人の乗客23人は全員おぼれて死んでしまったでござとです。しかし、事件の裁判権は治外法権によってイギリス領事にあつたため、船長を日本の裁判で裁くことができず、船長は無罪になったのです。

このことで日本国民の怒りが爆発し、国民の間に治外法権のことをいう(10…漢字で?権)撤廃の機運が高まります。

第六条 日本人に対し法を犯せるアメリカ人は、アメリカ領事裁判所にて吟味の上、アメリカの法度を以て罰すべし。アメリカ人へ対し法を犯したる日本人は日本役人糾しの上、日本の法度を以て罰すべし。
…日米修好通商条約の条文 (他国との条文も同様)

条約を結んだ当時の幕府の重臣たちは、こうした問題が潜んでいることに気付く者がいなかったようです。

治外法権撤廃、1894


大日本帝国憲法(1889年)がつくられ、日本の法律や裁判の制度が整ってくるようになると、条約改正の交渉が進み始め、(11…年)に伊藤博文内閣のときの外務大臣の(12…人名を漢字で)によって、イギリスとの間で治外法権(領事裁判権)の撤廃に成功しました。日清戦争(1894年)の直前のことです。

今まで条約の撤廃に応じなかったイギリスが、それに応じた理由を答えなさい。…(記述2)

そして、治外法権の撤廃をもっともはやくもりこんだ条約が、同じ年に結んだ日英通商航海条約です。

そして、これからかなり後の(13)年に、外務大臣の(14…人名を漢字で)が、アメリカと交渉して関税自主権の回復をはたしています。

寿太郎が19に11のは自主権回復



日清戦争 清に勝つため1894

1894年、日朝修好条規をおしつけて、朝鮮を開国させた日本は、朝鮮の米や金を大量に安く買い入れ、綿織物などを高く売って朝鮮に勢力をのばしていきます。そのため、朝鮮を自国の領土の一部と考えていた(15…中国の王朝名)と日本が対立するようになりました。こうして緊張する情勢の中、朝鮮で東学党の乱ともいう(16…漢字で?戦争)が起こります。東学とは李氏朝鮮の末期におこった宗教のことで、キリスト教思想に対して儒教・仏教・道教などを信じる東学党といわれる農民たちが、日本などの外国の勢力の追い出しと朝鮮政府の悪政反対を叫んでおこした反乱のことで、東学党は一部の農民たちだけだったため、現在では(16)とよばれています。

この反乱をしずめるために朝鮮政府が清に援軍を求めると、日本もそれに対抗して大軍を送ります。

そして、農民の反乱がしずまっても両軍は軍隊を引き上げず、日本が清の軍艦を攻撃したため、日清戦争へと突入します。翌年まで続いたこの戦争は、軍隊の近代化をすすめていた日本が勝利します。

このときに軍備の近代化をすすめられたのは、ロシアを警戒したイギリスが日本に援助をしたおかげであることはおさえておく必要があります。

右がこのときのようなすを風刺したものです。朝鮮を魚にたとえてあり、大陸への進出をねらっている(17…外国名)が、魚を横取りしようと、日本と清のすを橋の上からうかがっています。



(18…年) 日清戦争が始まった翌年に、戦争を終わらせるための講和会議が山口県の下関で開かれ、(19…条約名)が結ばれました。

このときの日本の代表は(4)と外務大臣の陸奥宗光で、中国側の代表は李鴻章でした。日本はこの条約で、①(20…外国名)が独立国であることを清に認めさせ、②朝鮮半島の西の(21…?半島)と、沖縄の西にある島の(22…現在は中国の地域名)、およびその近くの澎湖島などの島々を日本の領土にしました。さらに、③賠償金2億両を清から手に入れています。



重要 (22)の島は、この条約が結ばれてからアメリカとの太平洋戦争が終わるまでの(1945年)約50年の間、日本の領土(植民地)であったこと

と、(22)の地図での位置をしっかりと覚えておく必要があります。また、2億両という金額は、当時の日本円で3億6千万円にもなり、日本の1年間の国家予算の約3倍にもあたります。しかし、このことで戦争は儲かるものだという考えが国民の間に広がり、この後の日本は、戦争への道を進むようになります。

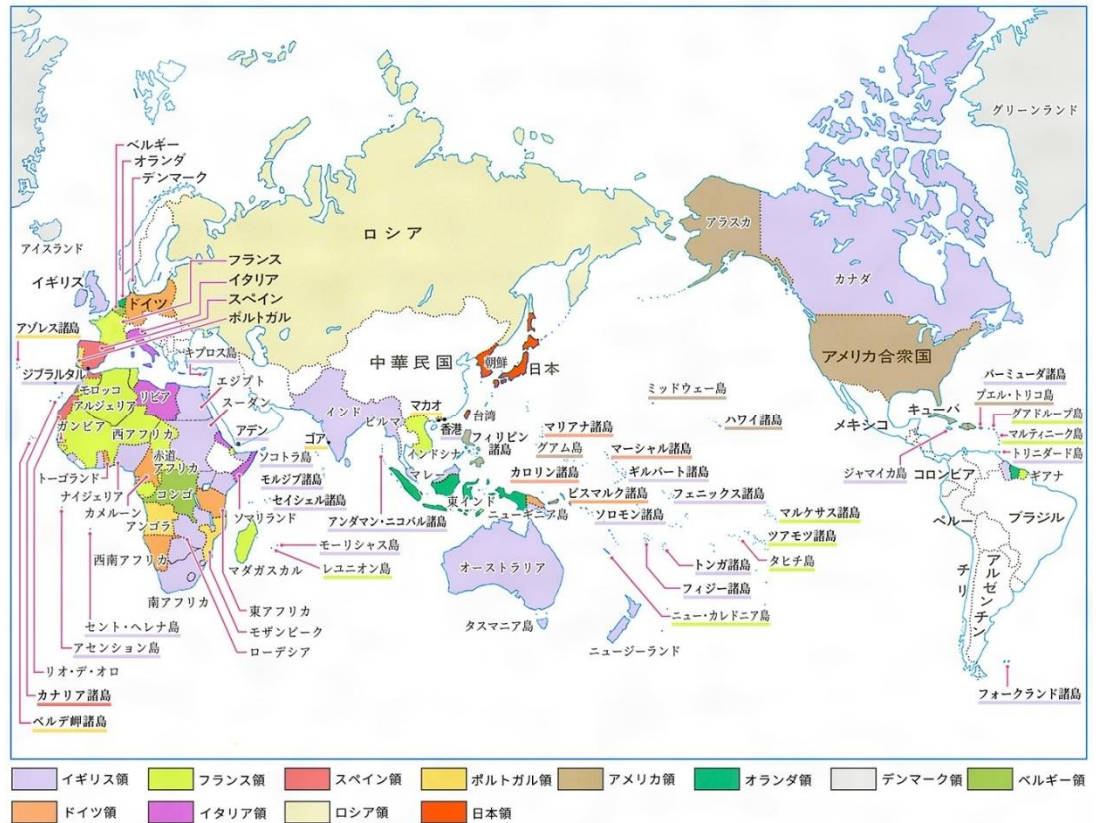


また、当時はアメリカやヨーロッパの国がアジアの国々を植民地にしていた時代

で、日本も狙われていたという時代の背景があります。このとき、植民地になることをまぬがれた国は、日本とタイ(王国)だけだったのです。

1901年につくられた八幡製鉄所(現在は九州製鉄所)は、日清戦争でえた賠償金をもとにして、九州の筑豊炭田の石炭と中国の鉾物資源を利用して発展しました。そして、これが軽工業から重工業へと発展した日本の第2次産業革命にあたります。ここでつくられた鉄鋼はおもに何をつくるために使われたのか、上のグラフを見て当時の日本の立場を考えて答えなさい。…(記述3)

(1905年ころの日本)




さんごくかんしょう 三国干涉 **あの1895**たよ、さんごくかんしょう

(18...年) 清が敗れたことを知ったヨーロッパの強国は、こぞって中国へ進出します。そして、**下関条約**の内容が明らかになると、**ロシア**は(23...外国名を2つ)をさそい、**遼東半島**を清に返還することを日本に強く求めてきます。日本は**三国**の軍事力にはかなわないため、これを受け入れ、**賠償金**の追加とひきかえに半島を清に返しました。このできごとが(24...漢字で)です。このあと、ロシアは半島の一部を借りて、**中国**東北部の(25...地名)に軍隊をおき、**朝鮮**にも勢力をのばそうとしたため、日本とロシアとの対立がはげしくなっていきます。また、1898年にはアメリカが**フィリピン**を占領しています。そして、国内では**大隈重信**(第8代内閣総理大臣)と**板垣退助**による**日本初の政党内閣**の**隈板内閣**が成立しています。



ロシアに**1902**日英同盟

1902年 **ロシア**の進出に不安を感じていた(26...外国名)と日本が、**ロシア**に対抗するために(27...?同盟)を結びます。このときのようなすが右絵です。少年の後ろにいる**イギリス**が、**ロシア**が焼いている栗(朝鮮)を少年の**日本**に取らせようとしています。そのようすを後ろから見ているのが(28...外国名)です。



日露戦争

日露では兵隊足りない1904



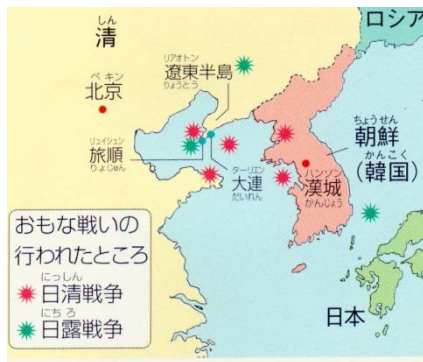
日清戦争から10年後の(29...年)、日露戦争が始まります。東郷平八郎(鹿児島出身)が率いる日本海軍が、遼東半島にいたロシアのバルチック艦隊との日本海海戦に勝ち、勝利します。左がこのときのように、イギリスとハンカチをふっているアメリカが戦いのようすをながめて

います。このとき、新聞などの多くがロシアとの開戦を主張し、三国干渉でロシアに反感をもった国民の多くもそれを支持しました。

しかし、このときの日本は武器・弾薬・食料などが不足したため、アメリカやイギリスから借金をして戦争を続けています。さらに、政府が戦争のための税金を増やしたため、国民も増税に苦しみ、戦争に反対する声も大きくなり、戦争を続けることがむずかしくなっています。



これらの戦いでは、朝鮮と満州(清王朝をたてた満州民族の故郷で、石炭や鉄鉱石の地下資源が豊富な地域)などがおもな戦場となり、多くの人が被害を受けています。重要…遼東半島・北京・旅順・大連の地図での位置はよく出題されます。



日清戦争と日露戦争の比較

●資料●「君死にたまふことなかれ」(一部)

あゝをとるとよ、君を泣く、
 君死にたまふことなかれ、
 末に生れし君なれば
 親のなさはまさりしも、
 親は刃をにぎらせて
 人を殺せとをしへしや
 人を殺して死ねよとて
 二十四までをそだてしや



このとき、(30...写真の人物)が戦場の弟の身を心配して詠んだ詩「(31...詩のタイトル)」は当時の人々に大きな反響をあたえています。

さらに、ロシアでは革命がおきて日本との戦いどころではなくなっていました。そこで、日本はひそかにアメリカ大統領の(32...人物名)に講和(戦いをおわらせること)のなかだちをたのみ、戦争の収束を図ります。

ポーツマス、19て05の金取れず

1905年、日露戦争を終わらせる(33)条約が結ばれ、日本の代表の(14)とロシアのウィットとの間で、講和が行われました。(33)とはアメリカにある軍港町のことで、ロシアの態度は「ロシアは敗戦国ではないので賠償金は支払わない、領土もゆずらない」という強いものでした。そのため、多くの国民は、この条約の内容に不満をもちます。その理由を上増税に苦しむ国民のすがたを参考にして答えなさい。…(記述4) こうした国民の不満が高まり、東京の(34...地名)にある交番を民衆が焼き打ちする(34)事件がおきています。



この条約で、日本に対してロシアが認めたことからは、

- ①日本が韓国に対する支配権をもつこと。
- ②旅順・大連の領土の一部を期限付きで借り受ける権利の租借権と、ロシアが経営していた(35)鉄道の権利を日本がもつこと。
- ③(36…サハリンのこと。ひらがな可)の南半分を日本の領土とすること。などです。

韓国併合 1910席(特等席)で韓国併合

ポーツマス条約で韓国の支配権をもった日本は、韓国を日本の保護国とし、同年(1905)に、今のソウルにあたる首都の漢城に韓国統監府という役所を置いて韓国の政治の実権をにぎります。

そして、1897年に大韓帝国と改めていた国名を朝鮮という地域名にして首都も漢城から京城へと改めています。そして、このときの

韓国統監府の初代統監になった人物が(4)です。しかし、これに対して韓国の民衆がはげしく抵抗したため、日本は軍隊と警察の力でおさえようとします。そして、1909年に(4)が韓国の青年(37…人物名。ひらがな可)に射殺されるできごとがおきました。すると、日本はこのことを理由にして、かねてからの計画通り、(38)年に韓国を併合して日本の植民地にしました。このできごとが(39…漢字で)です。

小早川 加藤 小西が世にあらば 今宵の月をいかに見るらむ

上の歌は寺内正毅という軍人がよんだもので、その内容は(40…天下人の名)の時代に朝鮮に出兵した武将の小早川隆景・加藤清正・小西行長が生きていたならば、この併合をどんなに喜んだらうかという意味です。

併合したあと、日本は朝鮮総督府という役所をおき、朝鮮の人々の土地を調べ、持ち主のはっきりしない土地は取り上げています。そのため、小作人となり、朝鮮から日本や満州へ移住する農民もいました。

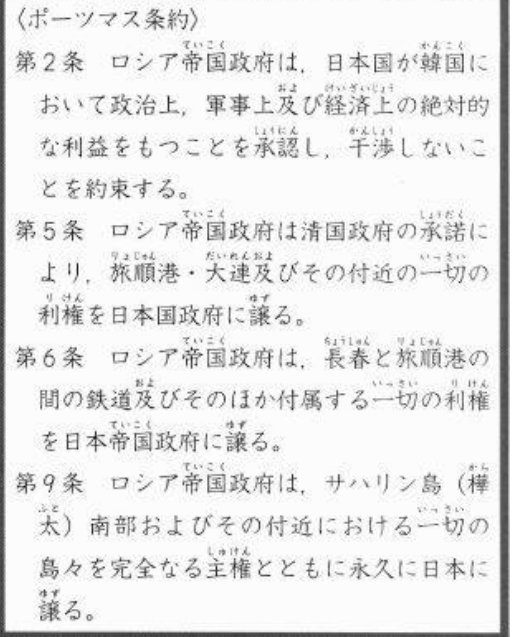


左は韓国を日本に併合したときの朝鮮(韓国)での小学校でのようすです。この写真から、日本が朝鮮に対して行った植民地支配とはどのようなものだったかが分かりますか。

…(記述5)

地図の上 朝鮮国にくろぐろと 墨をぬりつつ、秋風を聴く

右の歌は、植民地を歓迎する多くの日本人の中で、併合を批判した歌人の(41…人物名を漢字で)が詠んだものです。

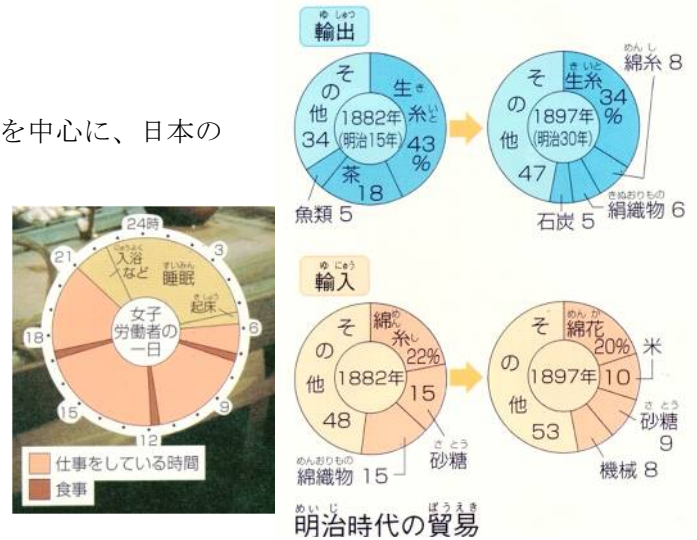


近代産業の発達 **重要**

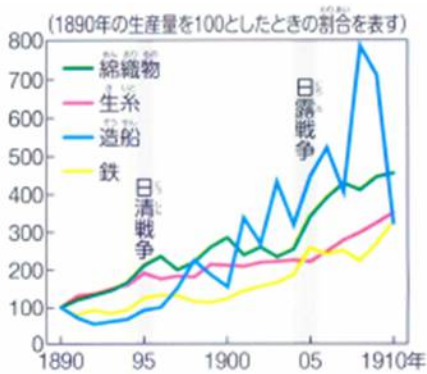
① 第一次産業革命

日清戦争の前後から、綿糸・綿織物・(42)などの軽工業を中心に、日本の第一次産業革命が始まっています。

綿糸は朝鮮や清などに、(42)はアメリカに輸出され、1909年には日本の(42)の生産額・輸出額が世界一になっています。しかし、これら製糸業の働き手たちは、貧しい農家の娘たちで、安い賃金で1日15時間以上も働かされています。こうして国を富ませ軍隊を強くする政策の(43…漢字4字)が進められていったのです。



② 第二次産業革命



工業の生産量の変化



政府は、日清戦争で得た賠償金をもとにして、1901年、北九州に(44…これからは九州製鉄所とよばれる)をつくっています。筑豊炭田の石炭(コークスをつくる)と、清の鉱物資源(鉄鉱石)を使うためです。軍備を増強するために、軍艦・大砲などを国内でつくることが必要だったわけです。

こうして、重工業が発達していき、工業の発達にともない、農村から都市に移り住んで工場に働く人たちが増えています。やがて、労働者たちが団結して(45…漢字で)をつくり、労働条件の改善を要求してストライキ(仕事をしないこと)などをおこして経営者と争う労働争議をおこすまでになっています。

しかし、このころから安い化学せんいが出回るようになったため、養蚕ではもうからなくなっていました。そのため、土地を売って小作人になる農民もふえています。また、地主にはらう小作料は収穫の半分にもなり、大地主は小作料で得た資本をもとに企業をおこして経済力を強めていくようになっていきます。



この時代に、徳川慶喜につかえ、大隈重信に説得されて大蔵省(今の財務省)に入省し、日本で最初の銀行をつくったほか、製糸・紡績・鉄道など多くの会社を創立して近代日本の経済の基礎をつくり、「日本資本主義の父」ともいわれた(46…人物名を漢字で。新一万円札の肖像になる)がいます。

また、生活の苦しさから土地を売って、小作人になった農民の中には、海外に移民として渡った人々がいます。おもな移民先はアメリカのハワイやブラジルなどです。その多くはサトウキビの農園などで働いています。こうした移民やその子孫たちが日系人です。右がそのときのポスターです。



公害の原点

第一次産業革命のころ、産業がすすむにつれて公害が発生しています。その一つが1891年に栃木県でおきた足尾銅山鉱毒事件です。鉱毒とは鉱石を掘り出すときや金属に加工するときに生じる毒物のことで、足尾銅山ではその鉱毒を(47…川名)に流していました。そして、その川が大洪水をおこして鉱毒が広がり、稲も育たなくなり、川の魚も死ぬほどの被害を受けたのです。しかし、政府は外貨獲得のために、何の対策を打つこともなく鉱毒をたれ流しにしたため、農民や漁民は銅山の採掘中止を訴え、栃木県出身で衆議院議員の(48…人名を漢字で)も国会で政府の責任を追及しました。これが日本の公害反対運動の原点です。しかし、政府はこれを受け入れず、(48)は国会を去っています。議員を辞めたあとも全財産をなげうって反対運動を展開し、明治天皇に直接訴えようともしましたが、問題は解決しなかったのです。



やがて、東京などで大きな社会問題として取り上げられたため、政府はしかたなく、この川と利根川の合流する地点に近い村を水没させて大きな池をつくり鉱毒をためこむ対策をとって、1973年まで銅の採掘を続けます。

しかし、一度失われた自然を回復させることはむずかしく、この銅山の付近には今でも草木も育たない荒れた山が広がっています。

医学



右の(49…人物名を漢字で)がドイツでコッホに学びペスト菌を発見しています。

また、伝染病研究所も設立して破傷風血清療法を発見しています。

左の(50…人物名を漢字で)は、北里柴三郎のもとで細菌学を学び、アフリカで黄熱病の研究中にその病に感染して亡くなっています。千円札にえがかれています。

右の志賀潔が赤痢菌を発見しています。

(49)



文学・絵画



左は軍医で作家の(51…人物名)です。代表作に「舞姫」「阿部一族」「山椒大夫」「高瀬舟」などがあります。

右は女流作家の(52…人物名を漢字で)です。苦しい生活のなかで、「たけくらべ」・「にごりえ」などの作品を著しています。5千円札にえがかれています。

与謝野晶子が著した「みだれ髪」や日露戦争に反対して詠んだ「君死にたまふことなかれ」は、当時の人々に大きな反響をあたえました。

右は英文学者で作家の(53…人物名)です。「我輩は猫である」の作品で有名になり、『坊ちゃん』・『三四郎』・『それから』などの作品があります。





左の歌人は石川啄木です。苦しい生活のなかで社会的な関心を深め、生活にそくした短歌をつくっています。代表作は「一握の砂」です。



左はフェノロサとともに日本美術の復興につくした(54…人物名)です。二人はともに東京美術学校(今の東京芸術大学)の創設に力を尽くしています。右は茨城県出身の日本画家(55…人物名)の作品の「無我」です。



黒田清輝の『湖畔』

また、フランス留学中に絵画を学んだ(56…人物名)は、屋外の光を取り入れた左の絵のような明るい色合いの西洋画などで高い評価を得ています。