

開国への流れ **いきなり92、ラクスマン**

1792年(1787年寛政の改革のころ)、ロシアの(1…人名)が北海道の根室に來航し、日本との通商を求めてきます。

このとき、幕府は長崎に来るようにと返事をしたため、ロシアのレザノフが、1804年に長崎に來航しています。

1808年には、イギリス軍艦の(2…?号)がオランダ船を追って長崎港に侵入し、長崎奉行に飲料水と薪や食糧を要求した(2)事件がおきています。当時はナポレオン戦争の時代で、フランスとイギリスは戦争状態にあり、オランダはフランスの支配下にあったのです。



これらのできごと以降の幕府は、外国の襲来に備えて江戸湾などの海岸の守りを厳重にするようになります。そのため、日本の北方を調べるため、近藤重蔵らに千島の探検をさせ、(3…人物名を漢字で)に北方を探検させています。このとき、(3)は樺太が島であることを発見し、樺太と大陸との間の海峡を間宮海峡と名付けています。さらに、「大日本沿海輿地全図」をつくった伊能忠敬によって蝦夷地(北海道)の測量も始められています。こうして、あくまでも鎖国政策を守ろうとする幕府は、1825年に外国船が近づいたらただちに攻撃せよという(4…?令)を各藩に出します。

資料…「どこの港においても外国船が近寄ってきたら、近くにいる者たちで力を合わせ、ともかく追いはらってしまえ。…」

1792年(ラクスマンが根室に來航した年)には、林子平がこうしたことを予知して『開国兵団』などを出版し、海防の必要を説いていました。しかし、幕府は無用に人心を動揺させたとしてこの人物を処罰しています。

また、幕府や藩は外国からの攻撃に備えて、大砲をつくる必要に迫られました。そして、1851年には今の佐賀県と長崎県の一部にあった肥前藩で、(5…?炉)とよばれる金属を溶かす炉を用いて、鉄製の大型の大砲をつくることに成功しています。そして、この炉は伊豆の韮山や長州藩(山口県)の萩、薩摩藩の鹿児島などでも建設され、現在は「明治日本の産業革命遺産」として残されています。



**モリソン号、鎖国18と37された 人は錯乱、蜜社の獄**

大塩平八郎の乱がおきた1837年に、通商を求めて浦賀に來航したアメリカの商船(6…?号)を砲撃する(6)事件がおきます。浦賀とは現在の神奈川県(7)市のことです。日本人の漂流民7人を乗せて來航したのですが、外国船(異国船)打払令がでていたため、この商船を砲撃して追い払おうとしたのです。

このとき、世界情勢に目をむけていた蘭学者の渡辺華山と、(8…シーボルトの弟子)がこの事件を知り、幕府の鎖国政策を批判したため、1839年の蛮社の獄で処罰されています。

薪と水、しかたがないから、いや 1842

当時、世界で最も強いと思われていた(9…中国の王朝名)が、アヘン戦争でイギリスに敗れたことを知った幕府が外国に対する今までの態度を改めます。そして、1842年、老中水野忠邦(天保の改革)が外国船打払令を廃止し、外国船に燃料の薪・石炭や食料を与える(10…漢字で…?令)を出します。

黒船に大砲撃たれて 1853

(11…年)、徳川家定が13代将軍になった年、アメリカのペリーが日本に対して開国と通商を要求するアメリカ大統領の手紙を持って、蒸気船2隻を含む艦船4隻で浦賀に来航します。幕府はアメリカの武力に負けて手紙を受け取り、翌年に返事をするを約束しました。



かわら版に描かれたペリー

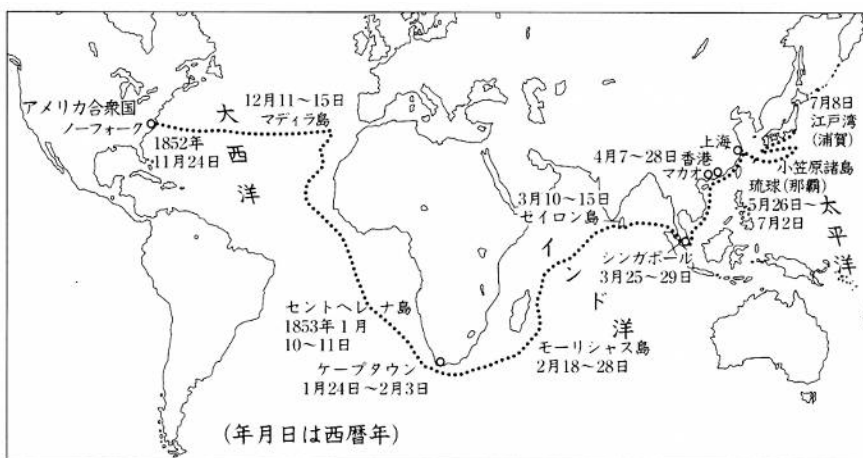
このとき、蒸気船にあわてふためいた幕府や江戸の人々がふるえあがったようですが、かわら版(当時の新聞のようなもの)の絵や下の狂歌に歌われています。



太平の眠りを覚ます 上喜撰 たった四杯で 夜も寝られず  
 解説…上喜撰という茶を飲むと興奮して眠れなくなるように、たった4隻の蒸気船で日本の平和な眠りが覚めされたという意味です。

この歌の下線部…は幕府の(12)政策をさしています。そして、ペリー来航以後の江戸時代を幕末といいます。

日本は周りを海に囲まれているため、世界一安全な国だと思っていたのが、蒸気船の出現によって、日本は海から攻撃を受ける世界一危険な国だと分かったわけですから、当時の人々の不安な気持ちが良く伝わってきます。



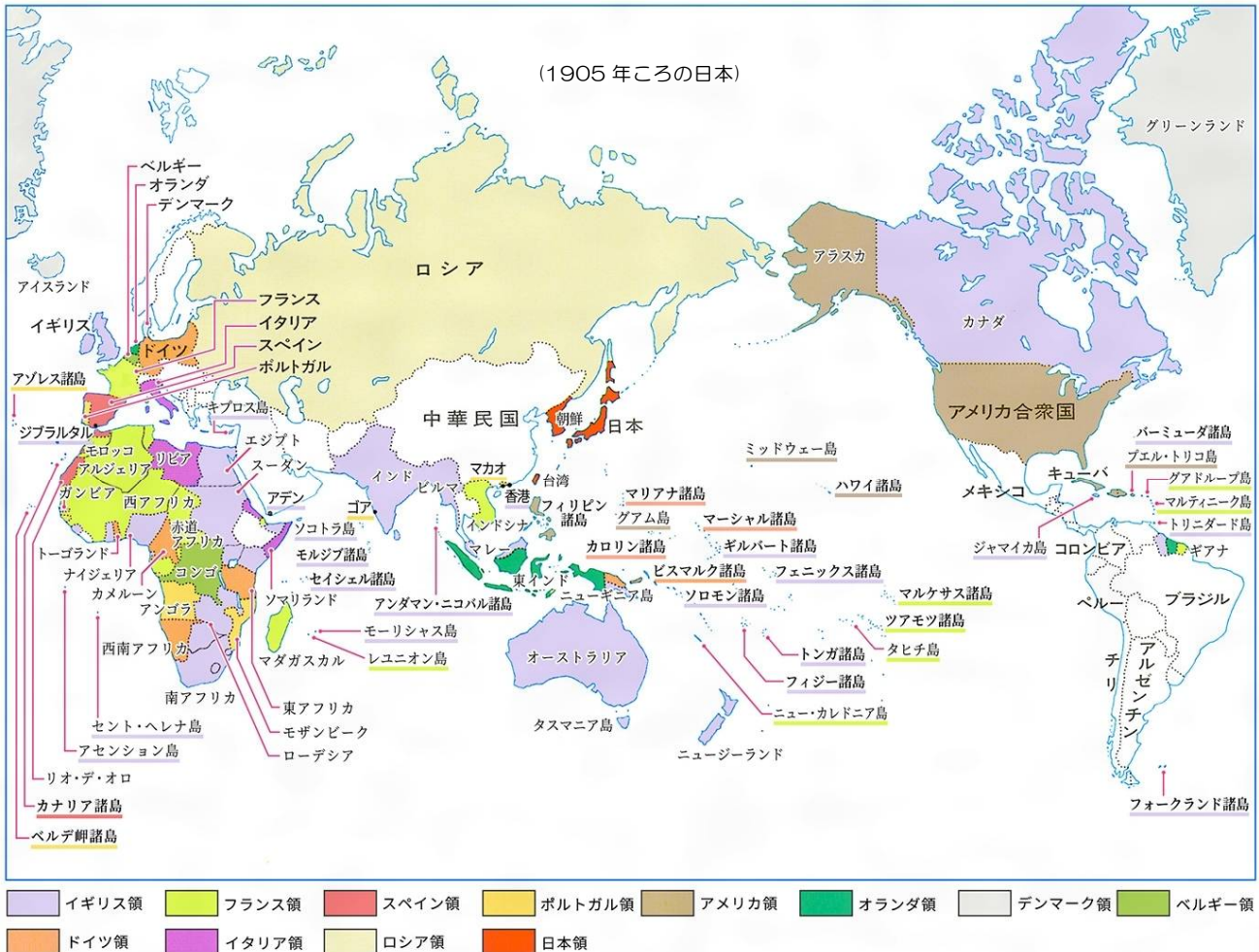
このころの世界は、イギリスで蒸気機関が実用化され、蒸気機関車や蒸気船などによって人々の生活が大きく変わる産業革命がおこっていた時代です。工場では製品が大量につくられるようになっていました。そのため、工業が進んだヨーロッパの国々は、その工業原料を手に入れるためと製品を売るために、アジアに

進出していったのです。そして、1776年にイギリスから独立したアメリカも北太平洋で捕鯨を始め、中国へとつながる太平洋横断の航路を開こうとしていました。



現在は捕鯨に反対しているアメリカも、当時は北太平洋でさかんに鯨をとり、その油を工場の照明や機械用に使っていたのです。こうしたことからペリーが来日した目的は、①日本近海で難破したアメリカの船員を救うこと。②当時の蒸気船の能力では石炭を補給せずに太平洋を横断できなかつたため、食料や水・石炭などを日本で補給する必要があったこと。③日本と貿易を行なうことであつたといわれています。

さらに、ペリーは日本に来るとき、琉球や小笠原諸島に立ち寄っています。日本の開国に失敗したときには琉球や小笠原諸島を占領するつもりだつたようです。



地図は当時のヨーロッパ各国の植民地(その地域や国を支配して、自国の領土とし、その資源や作物は自国のものにする)です。日本がとても危ない立場にあつたことが分かります。

また、右はペリーの来航がきっかけで、品川沖に築かれた人工の島の御台場です。幕府がここをつくった目的を説明しなさい。…(記述1)



また、ペリーが日本に開国を求めた理由をまとめて説明しなさい。…(記述2)

開国し、これから困難 **1854**

1854年、幕府はこれまでの慣習を破ってペリーの来航を朝廷に報告し、大名や役人にも意見を求めます。しかし、幕府の意見がまとまらないまま、今の横浜市の(13…地名)の沖に、7隻の軍艦をひきいたペリーがふたたび現れたため、幕府は(13)条約ともいう(14…?条約)をペリーと結び、北海道の(15…地名)と静岡県(16…地名)の2港を開港し、アメリカ船の寄港と食料燃料の補給とアメリカ領事が(16)に駐在することを認めます。静岡県の(16…地名)にしたのは、開港地を将軍のいる江戸からなるべく遠ざけたかったようです。その後、日本はイギリス・ロシア・オランダと同じ内容の条約を結びました。こうして、200年にわたる鎖国の時代が終わったのです。

ロシアとは、同年にロシアの海軍大将プチャーチンと日露和親条約を結び、択捉島から南を日本領にして、樺太は日本とロシアがともに使う雑居地にするのと決めていました。そのため、北方領土の問題で、日本はこの条約が北方領土の取り決めであるとロシアに主張しているのです。

1858だ、不平等条約

(17…年)、14代将軍徳川家茂のもとで、彦根藩(滋賀県)の藩主であった(18…人名を漢字で)が大老に就きます。幕府の大老という役職について説明しなさい。…(記述 3)



このとき、下田にやって来た初代アメリカ領事のハリスが、通商条約を結ぶことを幕府に強く要求します。それに屈した大老が、朝廷や一部の大名の反対を抑えて(19…?条約)を結びます。



この条約での取り決めによって、静岡県の下田を閉じて、今の横浜市の(13)、長崎県の(20…地名)、今の兵庫県神戸市の(21…当時の地名)、新潟県の(22…地名)の4港を新たに開港し、日米和親条約で開いた北海道の函館と合わせ、全部で5つの港を開くことになりました。



現在の横浜港周辺

横浜市の(13)は、東海道の宿場で人の往来も多かったため、外国人とのめめごとが起こることを心配した幕府は、神奈川から少し離れた小さな漁村の横浜に港を築いています。

このあと、日本はイギリス・ロシア・オランダ・フランスとも同じような内容の条約を結びますが、これらの条約は、領事裁判権のことをいう(23…?権)を認め、外国から入ってくる品物に日本側の収入となる関税をかける権利の(24…?権)が無いなどの日本にとってとても不利な内容のものです。



**重要** 第六条 アメリカ人が日本人に対して罪を犯したときは、アメリカ領事が裁判をする。

(23…?権)…ある国に住む外国人の裁判はその国の領事が行なうというもの。つまり、外国人が日本国内で罪を犯しても日本人によって捕まえ罰することができないため、そのほとんどが無罪となる。

この領事裁判権が撤廃されるのは、1894年の明治政府の外務大臣陸奥宗光によってのことで、これから36年後の日清戦争の直前の時期までかかっています。

**重要** 第四条 日本が輸出入する品物にかかる税金(関税)は、アメリカと相談して決める。

(24…?権)が無い…日本がかかる関税を日本が決めることができない。

(24)の獲得に成功するのは、1911年の明治政府の外務大臣小村寿太郎によってのことで、53年後の韓国併合の翌年になります。

このことから当時の日本が世界からどう見られていたかが分かります。そのことを答えなさい。…(記述4)  
また、幕府に外国との条約について理解している者がいなかったためと考えられていましたが、近年の研究では、このときの幕府が毅然とした態度で交渉に臨んでいたことが分かっています。

同年 開国に反対する人々は、井伊直弼が朝廷の許しをまたずに条約を結んだことを非難します。すると、井伊直弼は非難した(25…右の人物名)らを処罰しました。

このできごとが(26…?の大獄。ひらがな可)です。

(25…右の人物)は、江戸時代末期の思想家・教育者で、長州藩士(山口県)です。松下村塾を開き、これからの明治維新で活躍する高杉晋作・木戸孝允・伊藤博文



(初代の内閣総理大臣)・山形有朋(内閣総理大臣)ら多くの門弟を育てた人物です。

この地(萩市)は世界遺産に登録されています。

(25)と橋本左内らは死刑、15代将軍になる徳川慶喜の父の水戸藩主の徳川斉昭も謹慎処分(自宅からの外出などを禁止されること)を受けています。

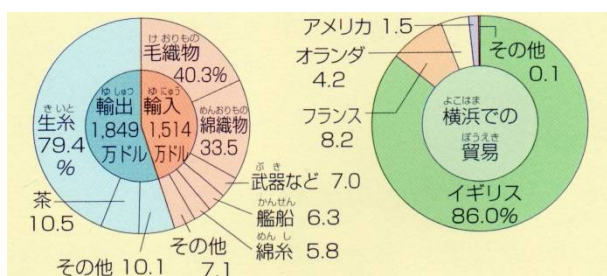


1860暗殺された

大獄で不満をもった尊王攘夷派の水戸藩の志士たち18名が、江戸城桜田門外で大老の井伊直弼を暗殺します。これが、(27…年)の(28…?の変)です。直弼を守っているのが彦根藩士(滋賀県)です。この事件以後、幕府の権威は急激に落ちていきました。



国内の経済



**重要** 貿易が始まると、日本は(29)や茶をさかんに輸出し、毛織物(仏教の教えから動物を食べることが禁止されたので、その利用も分からなかった)や、高い技術で作った綿織物や武器などを輸入します。貿易相手国は、ほとんどがイギリスです。当時の日本から見たイギリスはかなりの先進工業国だったのです。



左は江戸時代末期に描かれた浮世絵です。たこに書かれているものの値段が上がったことを風刺したものです。ものの輸出により、国内では品不足になったのです。さらに、金も出ていったため、貨幣の質が悪くなり、国内の物価が上がったのです。

物価高の原因の1つに金の交換比率があります。諸外国では金1に対して銀14の相場だったのに対し、日本でのそれは1:10の比率だったため、日本の金をねらって諸外国が押し寄せてきています。幕府は小判の品質を落とし、大きさも小さくするなどに対抗したため国内の物価が上がったのです。

とくに生活が苦しくなった下級武士や公家たちは、苦しくなったのは幕府や外国のせいだと考えるようになり、幕府を倒そうとする動きが大きくなっていきます。



江戸幕府の終わり

横浜の生麦18よ、ろくにた炊けない

1862年、生活が苦しくなった人々の間で、外国人を打ち払おうとする攘夷論が高まります。そして、攘夷論は天皇を中心に政治をしようとする尊王論と結びつき(30)運動になりました。尊王論は徳川光圀が皇室を重んずる道を説いた水戸学から始まっています。そのため、徳川光圀の命でつくられた「大日本史」はこの運動の精神的な指導書になっています。この運動の中心になったのが(31…今の山口県を漢字で)藩と(32…今の鹿児島県を漢字で)藩です。こうした世の中の動きのと、横浜近郊の(33…地名)で、イギリス人4人が騎馬のまま、薩摩藩の行列の前を通ったため、薩摩藩がイギリス人の1人を切り殺すという(33)事件がおきます。イギリスは幕府や薩摩藩に賠償金を要求しますが、薩摩藩がこれに応じなかったため、翌年(1863年)に薩英戦争に発展します。



そして、この戦いでイギリスに完全に負けた薩摩藩は、近代兵器の威力を痛感し、以後イギリスに近づいていくようになります。すると、イギリスは薩摩藩に対し、幕府を倒すための援助をするようになりました。

長州が降伏するも1国864した

同じ年、幕府に命じられた長州藩が、下関海峡を通過するアメリカ・フランス・オランダの外国船を砲撃する(34)事件がおき、1864年にはこの事件の報復で四国艦隊下関砲撃事件がおきます。





(35…薩長を支援した国)・(36…幕府を支援した国)・(37…ペリーの母国)・(38…鎖国時代に日本と取引していた国)の四国の外国艦隊に長州藩の下関砲台が攻撃された事件です。このとき、長州藩はわずか3日間で降伏しています。こうして攘夷の不可能をさとった両藩が倒幕運動に向かうのです。

1866年、薩摩藩と長州藩が坂本竜馬の仲立ちで倒幕のための(39…?同盟)を結びます。坂本竜馬とは、今の(40)県にあたる土佐藩の郷土という下級武士の出身です。

大政奉還の実現に力をつくしますが、京都で幕府の手によって暗殺されています。



右は幕府側の勝海舟という人物です。この人物は、江戸の町が戦火で燃えるのを防ぐため、官軍(新政府軍)の西郷隆盛(…本名を西郷隆永という)と会談し、戦いをさけて江戸城を官軍に明けわたしたことで知られています。幕府が江戸城の明けわたしに応じたのは、それまで幕府を援助していたフランスがそれをやめた背景があったようです。



また、勝海舟という人物は、幕府の軍艦奉行のときに咸臨丸の船長として、日本人で初めて太平洋の横断に成功しています。そして、坂本竜馬はこの勝海舟に航海術を学び海援隊を結成しています。

よしのぶ たいせいほうかん い や ろ だ 6 7  
慶喜は大政奉還18だ67

(41…年)、(42…第15代将軍徳川?。足利幕府も第15代将軍まで)が、政治の実権を天皇に返す(43…漢字で)を行い、260年続いた江戸幕府が終わると同時に約(44)年間続いた武士の世も終わりました。



このあとの朝廷は(45…?の?)を発表し、明治天皇を中心とした新しい政府をつくります。

しかし、幕府軍はこれに抵抗し、1868年の(46…地名)での鳥羽・伏見の戦いから、1869年の函館の五稜郭の戦いまで続く(47…?戦争)を戦いますが、敗れてしまいます。左がこの戦いの最後の舞台となった日本で最初の西洋式の城の五稜郭です。



明治天皇

新しい政府の中心となったA・B・Cの人物は「維新の三傑」といわれました。右の公家出身の(48…人物名を漢字で)の人物名と、下のA・B・Cの人物名とその出身藩を答えなさい。

(48)

A	(49…選んで漢字で)	さいごうたかもり きどたかよし 西郷隆盛 木戸孝允 さかもとりょうま おおくぼとしみち 坂本竜馬 大久保利通	(50…記号で)藩
B	(51…選んで漢字で)		(52…記号で)藩
C	(53…選んで漢字で)		(54…記号で)藩
D	(55…選んで漢字で)		(56…記号で)藩

- ア. 薩摩
- イ. 土佐
- ウ. 長州



A

B

C

D

