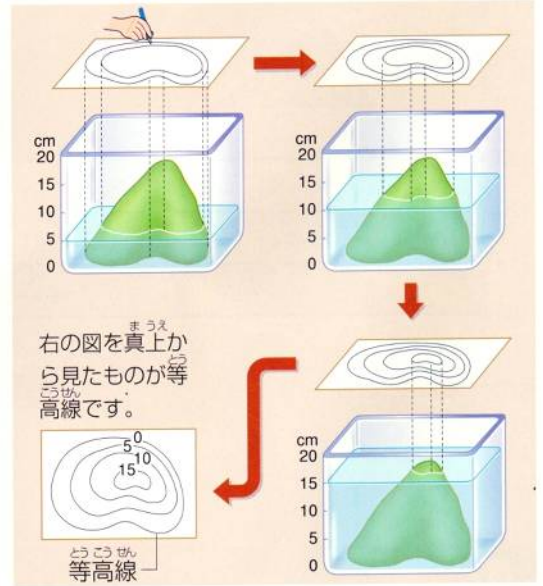
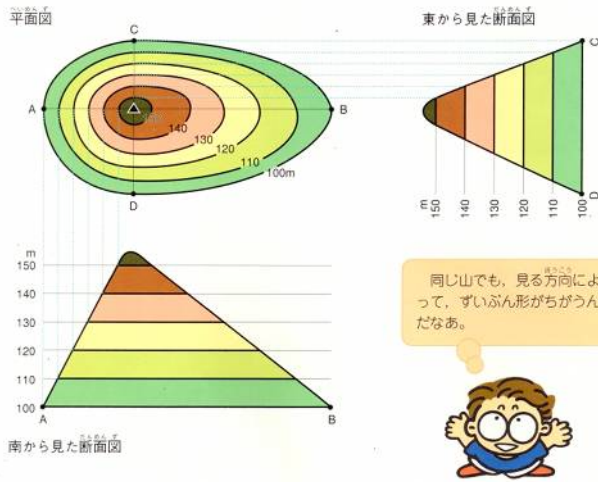


立体を平面で表すために工夫されたのが等高線です。海面から同じ高さのところを結んでつくります。その高さは、(1)湾の海面からの高さを基準にして表しています。この線の幅でなだらかな斜面なのか、急な斜面になっているのかが判断できます。



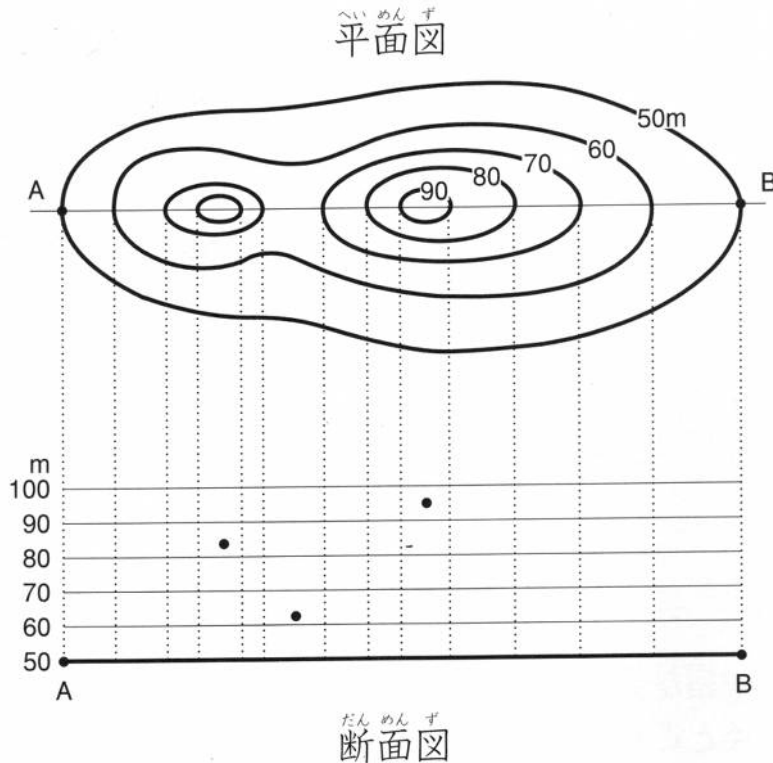
等高線の書き方

等高線の幅が広い斜面は(2...急かなだらか)になり、せまくなるほど斜面は(3...急かなだらか)になるのです。

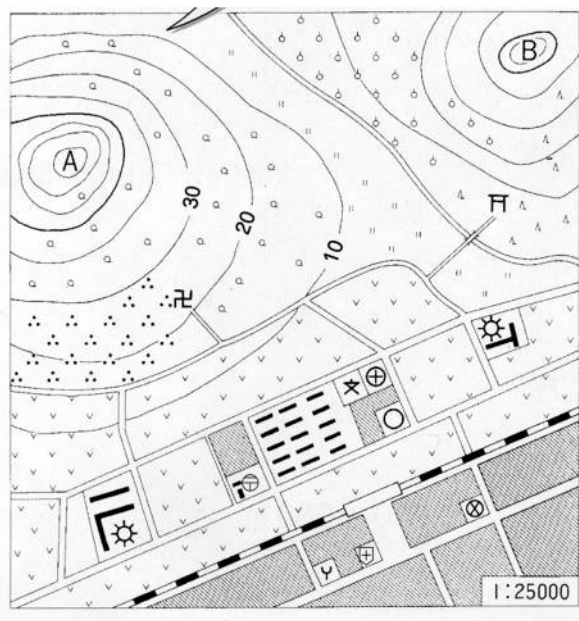
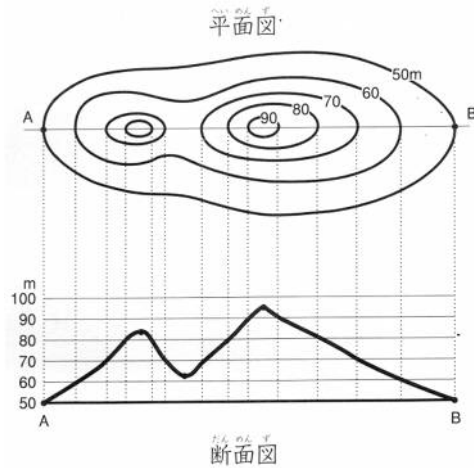
平面図と断面図

土地を真上から見た図を平面図といい、土地の切り口を示した図は断面図といいます。

断面図は、見る方向によってちがった形になります。つまり、平面図が地図で、私たちが目に見ている山の形が断面図です。下の平面図をもとに、断面図を完成させなさい。



前ページの答え



地図を見て、次の問いに答えなさい。

**方位**…郵便局から見て、神社は(4)の方角に見えます。

また、Bの山の頂上から見て、消防署に近い方の工場は(5)の方角に見えます。

**等高線**…等高線は、ふつう 25000 分の 1 の地図では(6)mごとに、50000 分の 1 の地図では(7)mごとに引かれています。

このことから、A山の頂上は(8)mよりも高く、(9)mよりも低いことが分かります。また、B山の頂上は(10)mよりも高く、(11)mよりも低くなっています。

**地図記号**…A山は(12)の森になっていて、その南には(13)が広がっています。また、B山の西には(14)が広がり、東は(15)の森になっています。

**縮尺**…郵便局から町役場までの距離は地図の上で 2 cm ですから、実際は(16)mになります。

地図をくらべて考えよう



1 1965年ごろ



2 1998年ごろ

江戸川をはさんで東が(17)市です。

昔はたくさんあった(18)が姿を消し、現在は町や工場が広がっています。舞浜町には有名な(19)があるのが見えます。海岸線のように昔とちがうのは、たくさんの土砂を運び入れた(20)によって土地が広げられたためです。海岸線や道路が昔と比べて直線になっていることから、新しくつくられた街であることが分かります。

江戸川も堤防を築いて川幅を広くして水害に備えています。